

Temat: Krajobraz wilgotnych lasów równikowych.

Podr. 113-116



Występowanie wilgotnych lasów równikowych

Wilgotne lasy równikowe występują po obu stronach równika.

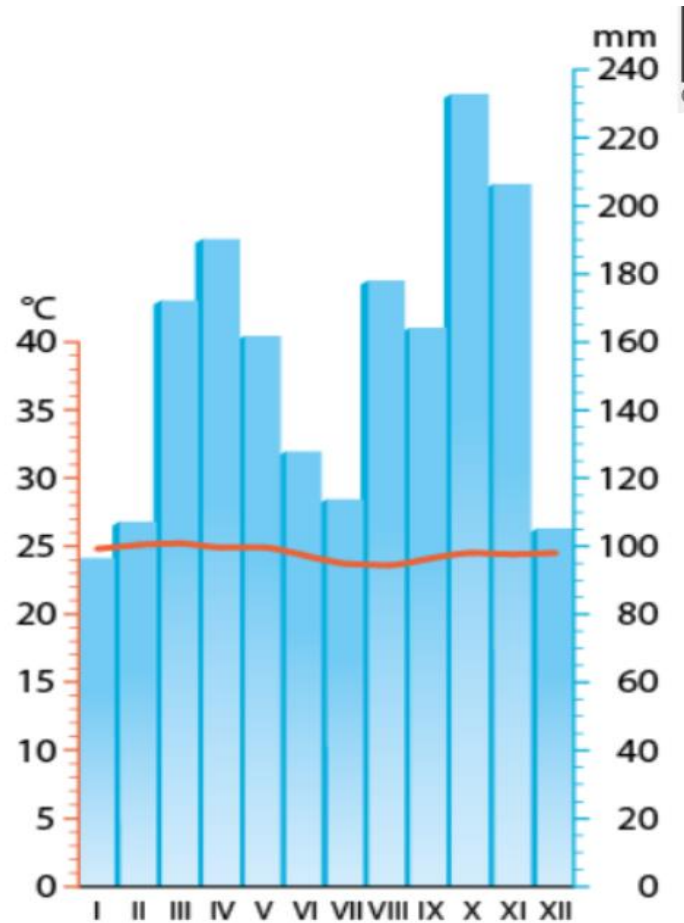


Nizina Amazonki w Ameryce Południowej

Wyspy Archipelagu Malajskiego w Azji

Kotlina Konga w Afryce

Klimat wilgotnych lasów równikowych



Wysokie temperatury powietrza (śr. ok. 25°C), duże opady deszczu przez cały rok. Duża wilgotność powietrza. Brak pór roku.

W lesie równikowym powietrze jest bardzo wilgotne, ponieważ pod wpływem wysokiej temperatury woda z roślin i zbiorników wodnych paruje. Para wodna unosi się, ochładza i skrapla. W ten sposób powstają chmury, z których codziennie po południu przez 2-3 godziny padają ulewne deszcze. I tak każdego dnia ...



Deszcze zenitalne




Świat roślin wiecznie zielonych wilgotnych lasów równikowych

Warunki klimatyczne sprzyjają rozwojowi bujnej roślinności.

ROŚLINY
W WILGOTNYM LESIE
RÓWNIKOWYM
TWORZĄ KILKA
WARSTW.

Podr. str.
114-115



Warstwa pojedynczych drzew o wysokości 50-70 m,
np. drzewo kapokowe








Warstwa drzew o wysokości 30-40 m – korony drzew
tworzą zwartą warstwę przez którą przenika niewiele
światła. Na pniach i gałęziach rosną mniejsze rośliny
np. storczyki.

Warstwa drzew o wysokości 5-20 m – drzewa
np. kakaowce rosną między pniami i gałęziami wyższych
drzew.

Warstwa krzewów i runa – panuje tu półmrok. W tej
warstwie rosną młode drzewa i cieniophilne rośliny tzw.
helikonie.

Zwierzęta lasu równikowego - przykłady

Podr. str.
114-115

Warstwa pojedynczych drzew o wysokości 50-70 m	wyjec	
Warstwa drzew o wysokości 30-40 m	małpy, np. czepiaki	
Warstwa drzew o wysokości 5-20 m	koliber, tukan	 
Warstwa krzewów i runa	tapir, jaguar, motyl Morpho	  

Życie mieszkańców lasów równikowych

Podr. str.
116

ZADANIE DOMOWE

I. Przeczytaj tekst w podręczniku. Odpowiedz na pytania poniżej. Odpowiedzi zapisz w zeszyte do geografii.
Wykonaj zdjęcie i prześlij na adres geografiasp17@gmail.com - **do środy 22.04.2020 do godz. 15.00**

1. Jak nazywają się mieszkańcy lasu równikowego na Nizinie Amazonki?
2. Jak nazywają się mieszkańcy lasu równikowego w Kotlinie Konga?
3. Czym zajmują się mieszkańcy lasu równikowego?
4. W jaki sposób mieszkańcy lasu równikowego użyźniają glebę?
5. Jak nazywa się roślina będąca głównym pożywieniem mieszkańców lasu równikowego?
6. Opisz domy mieszkańców lasu równikowego?

ZADANIE DOMOWE

- I. Wykonaj ćwiczenia 1,2,4 str. 68-69 – prześlij zdjęcie wykonanych zadań:
wyłącznie 1, 2 str. 68 - **do środy 22.04.2020 do godz. 15.00**

Test Eduelo:
dla wszystkich
Do wykonania
do środy
22.04.2020 do
godz. 15.00